

Buongiorno bambini, ecco il lavoro per la settimana dal 23 al 27 marzo.

- **La tabellina del 7 (attento, è la più difficile!)** : completa pag. 58 e svolgi il lavoro sul quaderno nel solito modo ( titolo, scrivi le moltiplicazioni del 7, colora i risultati sulla scheda piccola, scrivi la sequenza senza lo zero e studiala a memoria, componi il puzzle); se non riesci a stampare, disegna tu la scheda piccola ma, ovviamente, non farai il puzzle.
- **Ripassa sempre le tabelline già studiate** (usa le carte o i giochi al computer) e completa pag. 136; **allenati oralmente, con un adulto, con addizioni e sottrazioni.**
- **LE ADDIZIONI IN COLONNA CON IL RIPORTO (O CAMBIO):** inizia guardando il video “ADDIZIONI CON IL RIPORTO, GIULIA” che trovi a questo link:

<https://www.dropbox.com/s/ulz7yfyvoyey8p2/ADDIZIONI%20CON%20IL%20RIPORTO%2C%20GIULIA.mp4?dl=0>

leggi e completa le pagg. 36 e 37, esegui l’es. n. 4 sul quaderno, come hai già fatto le altre volte.

- **Completa le pagg, 132 e 134 e leggi pag. 76**
- **Completa sul quaderno le 2 schede dei percorsi** (se non riesci a stamparle le farai a voce, guardandole sul computer).

VEDI SCHEDE ALLEGATE NELLE PAGINE SEGUENTI




● Quale giocattolo appartiene a ciascun bambino? Segui le istruzioni delle frecce a partire dai punti indicati e lo scoprirai. Ricorda che i numeri che precedono le frecce indicano di quanti quadratini ti devi di volta in volta spostare.


1


A) 5 → 4 ↓ 3 → 4 ↓ 4 →

B) 3 → 1 ↑ 5 → 2 ↑ 3 → 1 ↑ 1 →

C) 6 → 1 ↑ 4 → 2 ↑ 2 →



 gioca con .....

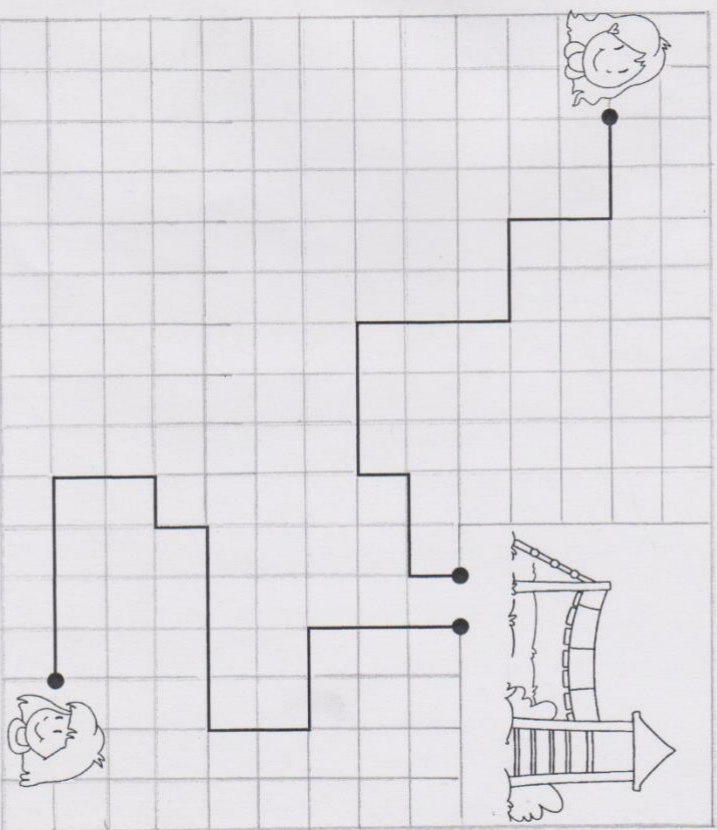
 gioca con .....


 gioca con .....

● Quanti passi fa ogni bambina per arrivare al parco giochi? Conta e completa.

— = 1 passo

2



 = ..... passi

 = ..... passi

- Chi fa la strada più lunga? .....
- Di quanti passi è più lunga? .....